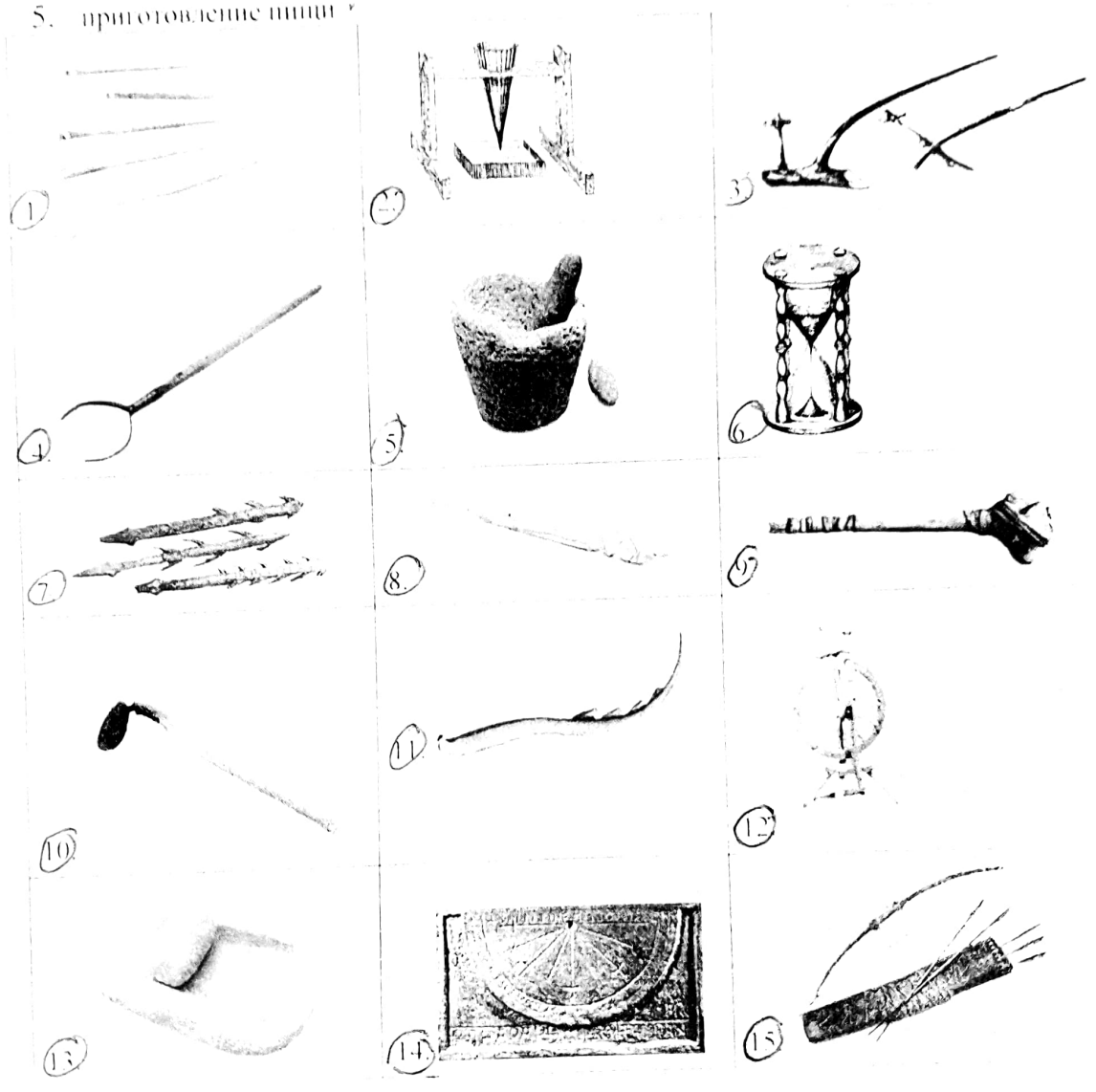


Максимальная оценка за работу – 100 баллов.

Задание 1

Рассмотрите изображения. Для каждой функции подберите все подходящие орудия труда.  
Функции:

- 1. обработка земли
- 2. обработка ткани одежды
- 3. отсчёт времени
- 4. охота
- 5. приготовление пищи






Ответ:

	Функция	Номера	
3 33	обработка земли	10	3
3 20	обработка ткани одежды	1	12
3 30	отчёт времени	6	14
3 33	охота	8	15
3 33	приготовление пищи	13	5
39			11
			8, 7
			4

Задание 2

Расставьте в хронологическом порядке представленные на иллюстрациях архитектурные сооружения от раннего (1) к позднему (5).









Ответ: 1, 3, 2, 5, 4  
+2 +2 +2 +2 +2

10Б

Задания 3-6

3. Выберите изображения, относящиеся к истории Древнего Египта.





68  
Ответ: 2-6-1

4. Выберите изображение, связанное с историей России.

~0  
Ответ: 8

5. Выберите иллюстрации, на которых изображены архитектурные памятники, относящиеся к так называемым семи чудесам света.

55  
Ответ: 5, 6

6. Прочитайте текст и выберите изображение, которое связано с приведённым текстом.

На всей земле был один язык и одно наречие. Двинувшись с востока, они нашли в земле Сеннаар равнину и поселились там. И сказали они: построим себе город и башню, высоту до небес, и сделаем себе имя, прежде нежели расеемся по лицу всей земли. И сошёл Господь посмотреть город и башню, которые строили сыны человеческие. И сказал Господь: вот, один народ и один язык, и вот что начали они делать, и не отстанут они от того, что задумали делать: сойдём же и смешаем там язык их, так чтобы один не понимал речи другого. И рассеял их Господь оттуда по всей земле; тогда они перестали строить.

68  
Ответ: 3

#### Задание 7

Расставьте даты в верной хронологической последовательности от самого раннего к более позднему.

- 1) 6725 год от Сотворения мира
- 2) XXI век до н. э.
- 3) 476 год до н. э.
- 4) III век до н. э.
- 5) 1855 год

68  
Ответ: 4, 2, 3, 5, 1.

**Задание 8.** Решите хронологическую задачу. Для удобства нарисуйте «спинно времени». Считается, что первую пирамиду в долине Имхотеп начал строить в 2750 г. до н. э. Последние пирамиды построены в 1700 г. до н. э. Сколько лет прошло между постройкой первой и последней пирамиды? Сколько лет назад были построены последние пирамиды?

68  
1050 г., 3131 до н. э.

**Задание 9.** Отметьте на карте:

1. Черное море
2. Каспийское море
3. Красное море

4. Персидский залив
5. Реки Тигр и Евфрат

000000

